

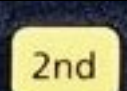






# Rechnen mit dem Taschenrechner ECO30 von Texas Instruments

Welche Funktionen haben die folgenden Tasten?

Berechne jeweils das Produkt, die Summe, die Differenz und den Quotienten der folgenden Zahlen. Gib das Ergebnis in der wissenschaftlichen Schreibweise an. Benutze die Speicherfunktion! Finde das Lösungswort.

	Produkt $x \cdot y$	Summe $x + y$	Differenz $x - y$	Quotient $x : y$
a) $x = 4,7 \cdot 10^6$ $y = 3,7 \cdot 10^{-3}$				
b) $x = 0,08 \cdot 10^5$ $y = 12,9 \cdot 10^4$				
c) $x = 75,6 \cdot 10^{-5}$ $y = 0,07 \cdot 10^6$				
d) $x = 2,03,6 \cdot 10^4$ $y = 0,25 \cdot 10^6$				

$4,7 \cdot 10^6$	<b>E</b>	$6,2 \cdot 10^{-2}$	<b>C</b>	$1,032 \cdot 10^9$	<b>L</b>	$- 7 \cdot 10^{-4}$	<b>A</b>
$1,37 \cdot 10^5$	<b>E</b>	$7 \cdot 10^4$	<b>S</b>	$5,09 \cdot 10^9$	<b>B</b>	$4,66 \cdot 10^6$	<b>R</b>
$1,08 \cdot 10^{-8}$	<b>R</b>	$8,144 \cdot 10^{-2}$	<b>T</b>	$1,27 \cdot 10^9$	<b>G</b>	$5,292 \cdot 10$	<b>H</b>
$- 2,2964 \cdot 10^5$	<b>I</b>	$1,739 \cdot 10^4$	<b>V</b>	$2,7036 \cdot 10^5$	<b>E</b>	$- 1,21 \cdot 10^5$	<b>I</b>

-----