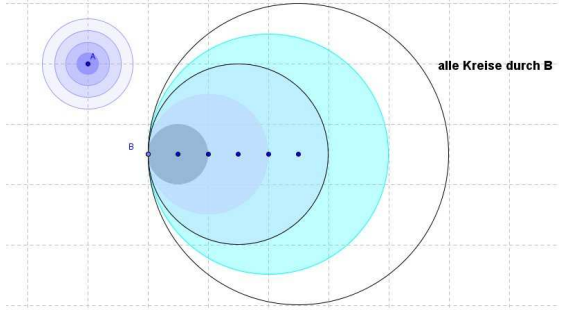
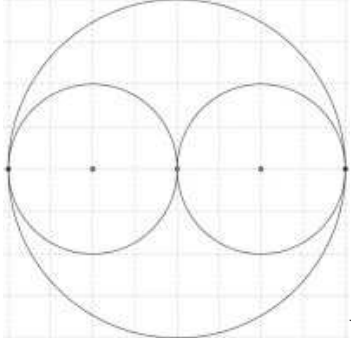
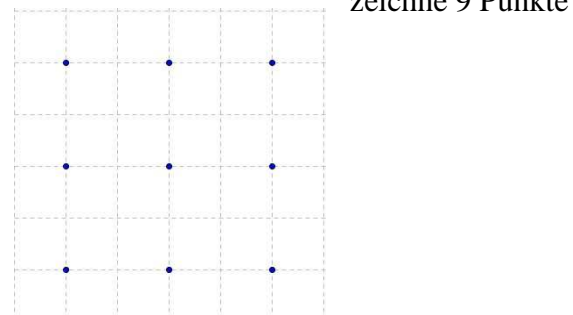
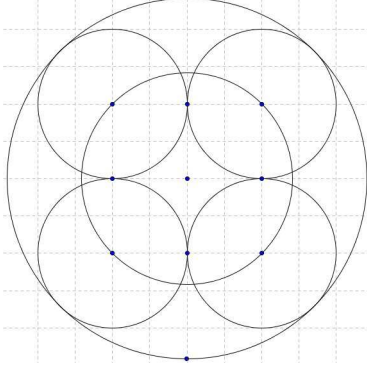
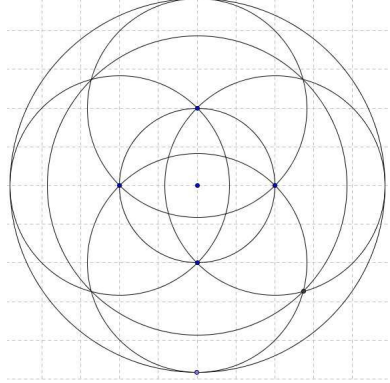
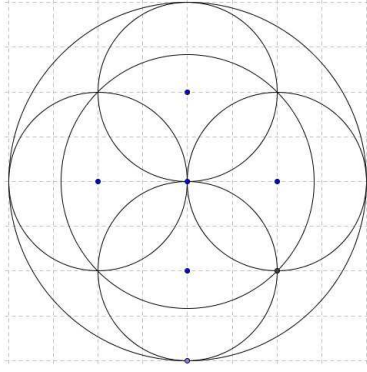
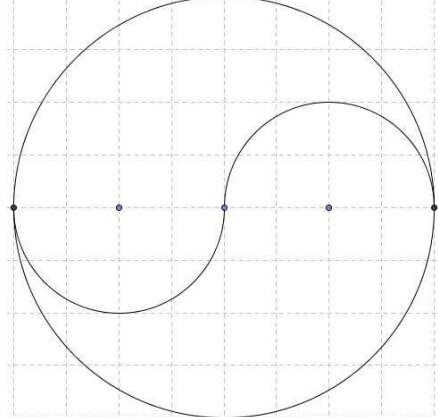
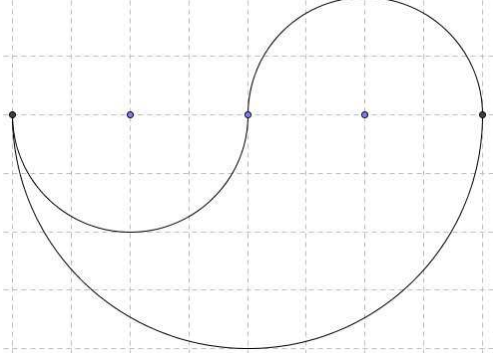


Kreismuster mit der dynamischen Geometriesoftware GeoGebra

H. Mammeas

<p>Konzentrische Kreise haben alle denselben Mittelpunkt.</p>  <p>alle Kreise durch B</p>	 <p>Wo liegen jeweils die Mittelpunkte?</p>
<p>zeichne 9 Punkte</p> 	 <p>benutze die 9 Punkte, um dieses Muster zu erstellen</p>
 <p>auch hier helfen dir die 9 Punkte</p>	 <p>Kannst du auch dieses Muster nachzeichnen?</p>
 <p>Kreise verbergen und Kreisbögen zeichnen</p>	 <p>Du kannst aber auch selbst ein Kreismuster erfinden.</p>